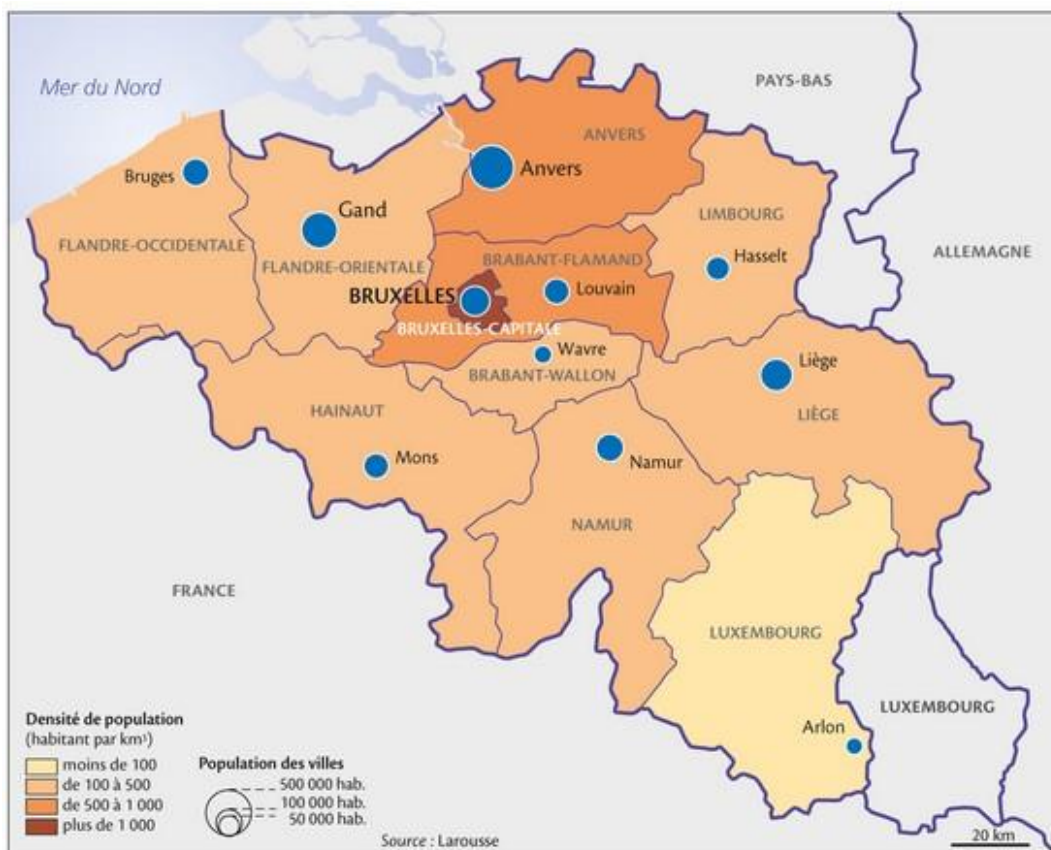


La population en Belgique



1) Identifier les éléments clé de la carte.

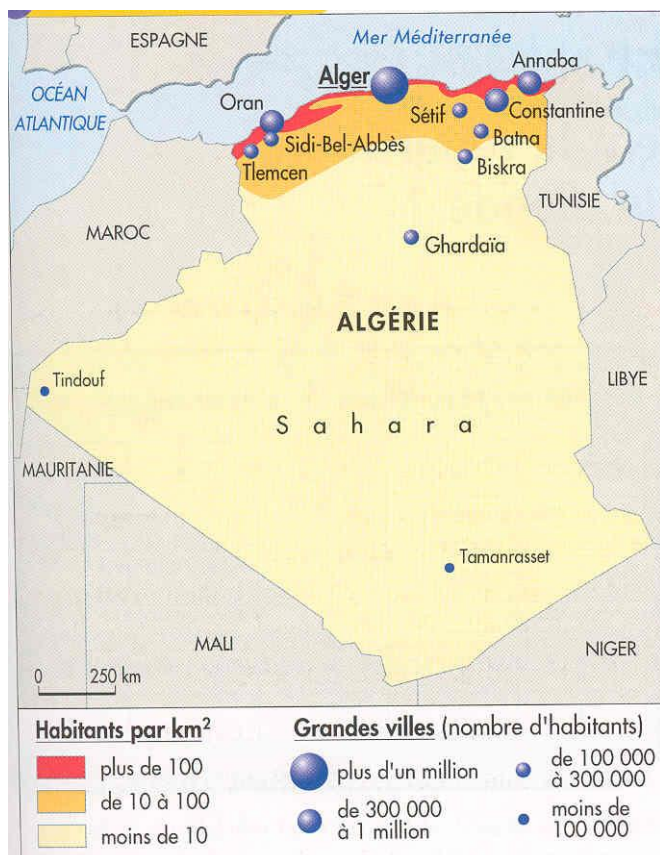
2) Présenter le document.

Aide = ne pas oublier l'échelle géographique.

3) Comment est répartie la population en Belgique ?

Aide = je donne mon idée + je montre qu'il a des espaces fortement ou faiblement peuplé + je montre qu'il y des espaces faiblement ou fortement peuplés.

La population en Algérie



1) Identifier les éléments clé de la carte.

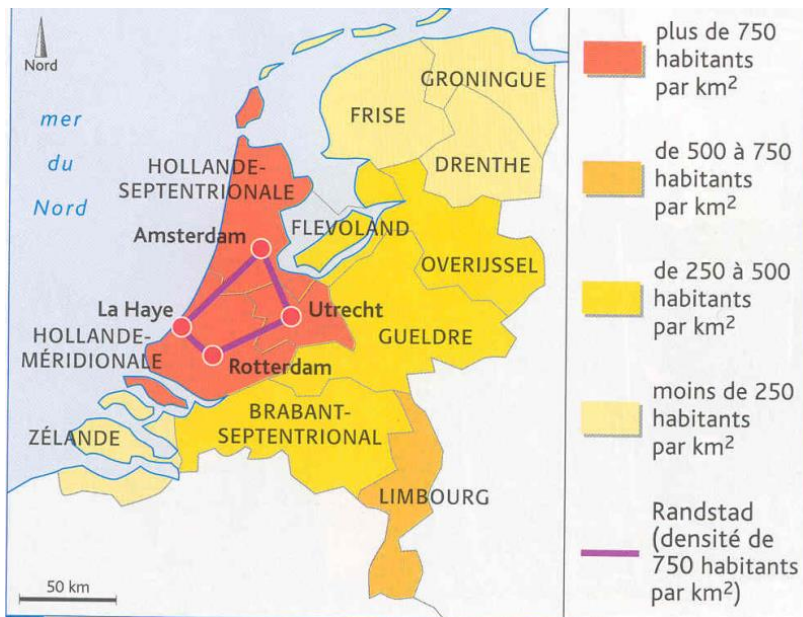
2) Présenter le document.

Aide = ne pas oublier l'échelle géographique.

3) Comment est répartie la population en Algérie ?

Aide = essayer d'être plus précis en en donnant les espaces de faible densité et de forte densité – relisez le dernier paragraphe du cours

La population au Pays-Bas



1) Identifier les éléments clé de la carte.

2) Présenter le document.

3) Comment est répartie la population aux Pays-Bas ?

Répartition de la population en Espagne



1) Identifier les éléments clé de la carte.

2) Présenter le document.

3) Comment est répartie la population en Espagne ?