

LOUVRE-LENS - LOCALISATION

- Localiser précisément le site du Louvre-Lens à différentes échelles : continentale, nationale, régionale et locale.

Document n°1



Document n°2

Le Louvre à Lens

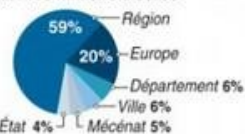
Site

- Grand auditorium, «La Scène» (950 m²)
- Galerie des expos temporaires (1 800 m²)
- Hall d'accueil (4 000 m²)
- Galerie du temps (4 000 m²)
- Pavillon de verre
- Restaurant
- Administration



Chiffres clés

- Superficie du terrain : 20 ha
- Surface totale des bâtiments : 28 000 m²
- Coût : 150 millions d'euros



- Budget de fonctionnement : 15 millions d'euros
- Nombre d'employés : 120 à 150
- Nombre de visiteurs attendus par an : 450 000 à 550 000

Source : louvrelens.fr

Distances



AFP

La nouvelle carte des régions

- Limites des nouvelles régions - - - - Limites des anciennes régions
● Nouvelle capitale régionale ○ Ancienne capitale régionale (Xxx) Président de la région



* Collectivité territoriale à statut particulier

INFOGRAPHIE LE MONDE SOURCE : INSEE

LOUVRE-LENS - LE SITE

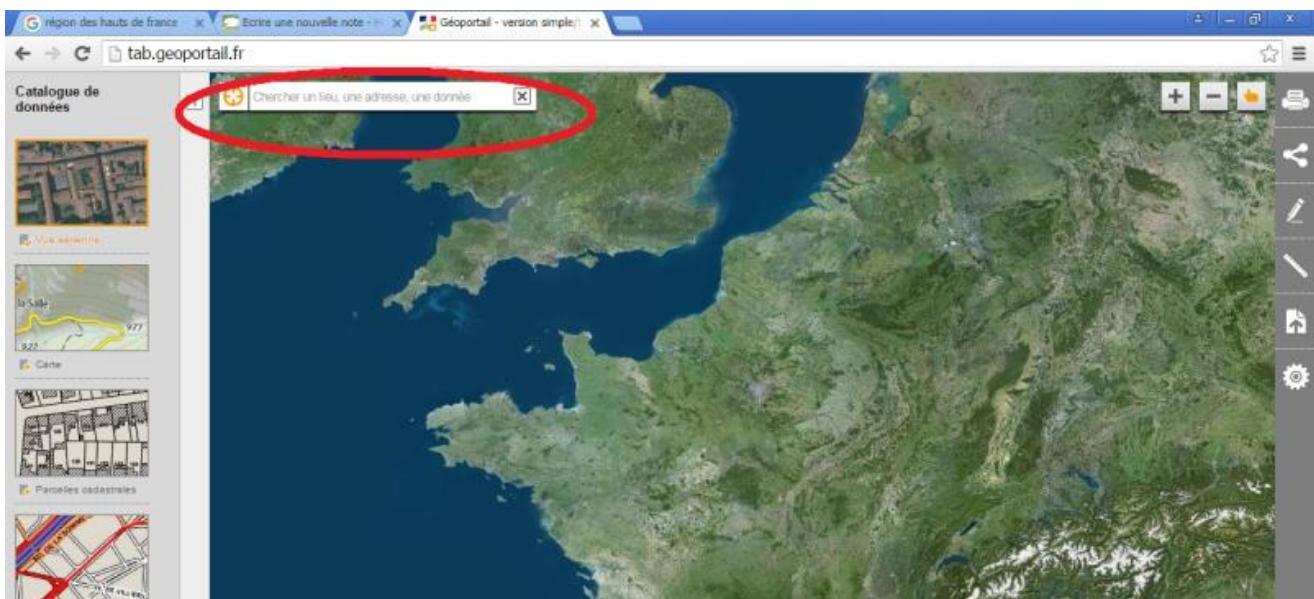


- **Identifiez les caractéristiques du site sur lequel le Louvre-Lens a été construit en consultant les documents suivants.**

- Carte IGN

- 1) Cliquez sur le lien suivant : <http://www.geoportail.gouv.fr/accueil>
- 2) Cliquez sur l'onglet "version simplifiée"

3) Tapez l'adresse du Louvre-Lens dans "Chercher un lieu, une adresse, une donnée" : **rue paul bert, lens**



4) Cliquez sur l'onglet à gauche "+ de données" et puis "carte IGN".



4) Faites tourner la molette de votre souris pour vous rapprocher.

5) Relever ce qui existait avant sur l'emplacement du musée.

Wikipédia


1) Cliquez sur le lien suivant : www.google.fr

2) Tapez "fosse n° - Lens" - Utilisez le numéro de la fosse trouvé sur la carte IGN

3) Lisez l'article et relevez les informations qui vous semblent importantes.

NE PAS COPIER L'ARTICLE - SELECTIONNER LES MOTS CLE

LOUVRE-LENS - LES RAISONS



- **Identifiez les raisons à l'origine du projet du Louvre-Lens en consultant les documents suivants.**

Insee

- 1) Cliquez sur ce lien : http://www.insee.fr/fr/insee_regions/nord-pas-de-calais/themes/tableau_de_bord/TB02II.htm
- 2) Recherchez les tableaux suivants : taux de chômage - revenus - allocations d'aides sociales de la Caisse d'Allocation (%)
- 3) Relevez les chiffres clé.
- 4) Concluez sur la situation économique et sociale de la ville de Lens.

Mission bassin minier

- 1) Cliquez sur ce lien : <http://www.missionbassinminier.org/nos-chantiers/grands-projets/louvre-lenseuralens.html>
- 2) Recherchez les raisons invoquées pour justifier la création du Louvre-Lens.

NE PAS COPIER L'ARTICLE - SELECTIONNER LES MOTS CLE

LOUVRE-LENS - LES ACTEURS



- Identifiez les acteurs à l'origine du projet du Louvre-Lens en consultant le document suivant.

Louvre-Lens

1) Identifier les différents acteurs à partir du document suivant.



2) Proposez une classification des acteurs.

3) Qu'en concluez-vous ?